

Uppdrag 3. På Hedenhös tid


Uppgift 1. Människan under och efter istiden

Fakta. En av de högsta kustlinjerna som uppmätts i världen är på Skuleberget på 286 m.ö.h. Då, för 10 000 år sedan, stod strandlinjen vid Skulebergets nuvarande topp. Landhöjningstakten är just nu 8 mm/år.

Kungsgrottan i Skuleberget ligger 185 meter över nuvarande kustlinje. På en klippavsats i berget, 15 meter under grottans nivå (d.v.s. på 170 meters nivå) hittade man för några år sedan avslag av kvarts som visade att tidiga människor har vistas här. Således bodde människor vid Ångermanlandskusten redan då.

Att fundera på i grupp!

- Vad gjorde att de var här vid den tidpunkten, d.v.s. vad levde (överlevde) de av?
- Vad vet ni om andra spår av människor under nedisningen i det nordliga området i Skandinavien? När levde människan här som tidigast?



Skuleberget i två vyer. Vita pilen visar Kungsgrottans läge.




Foto: Thomas Birkö

ELEV

Uppdrag 3. På Hedenhös tid

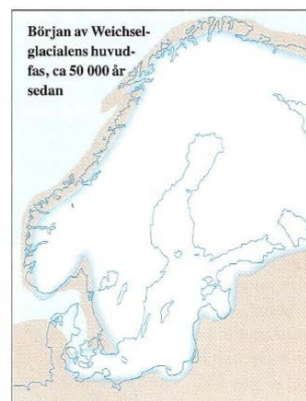
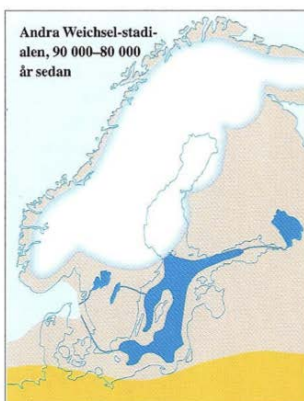
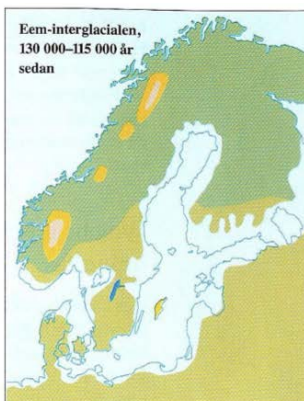
Uppgift 2.
Vargrottan

Läs faktablad I15!

Studera kartan till höger och vegetationskartan nedan.

Att fundera på i grupp!

- Vilka var det som bodde här och vad levde de av?
- Vad gjorde att de var här vid den tidpunkten, d.v.s. vad levde (överlevde) de av?
- Hur var klimatet och hur såg naturen ut?



Lövskog = ljusgrön färg,
barrskog = mörkgrön färg,
björkskog = gul färg,
tundra = beige färg

Illustration från
"Hav och kust" ISBN
91-87760-13-4 Bra
Böckers bokförlag

Istäckets, havets och vegetationszonernas utbredning under vissa viktiga skeden från och med Eem-interglacialen. Kartorna är delvis hypotetiska då tillräcklig information saknas för de flesta stadierna. Efter den situation som visas på den sista kartan, breddade inlandsisen ut sig till sitt maximiläge. (M49)

ELEV

Uppdrag 3. På Hedenhös tid

Uppgift 3.
Varggrottan del 2

Konstruera & presentera

Konstruera en tredimensionell modell av Varggrottan och omgivningen utanför och tala om (visa) vilka de var och vad de levde av i detta klimat!

Uppdrag 3. På Hedenhös tid

Uppgift 4. Mammutar

Konstruera & presentera

Ta reda på mer fakta om livet under istiden och vilka djur som fanns här då.
Vad kan människorna i Varggrottan ha jagat mer än mammut?

Faktablad
Använd **faktablad I 14.**